

# ÉVALUATION À L'ENTRÉE AU CE1

---

## Livret de l'élève Mathématiques

Prénom : .....

Nom : .....

Date de naissance : .....

Circonscription de la Haute Vallée de l'Oise  
2015/2016

**Fiche CE1 N1 RANGER DES NOMBRES ENTIERS NATURELS INFÉRIEURS A 30 EN ORDRE CROISSANT**

Écris les nombres suivants dans l'ordre croissant.

5	10	2	7	4	0	13	9	1	6	12	3	11	8
---	----	---	---	---	---	----	---	---	---	----	---	----	---

--	--	--	--	--	--	--	--	--	--	--	--	--	--

55

1 2 9 0

**Fiche CE1 N2 RANGER DES NOMBRES ENTIERS NATURELS INFÉRIEURS A 30 EN ORDRE CROISSANT**

Écris les nombres suivants dans l'ordre croissant

16	19	22	20	17	15	21	18
----	----	----	----	----	----	----	----

--	--	--	--	--	--	--	--

56

1 2 9 0

**Fiche CE1 N3 RANGER DES NOMBRES ENTIERS NATURELS COMPRIS ENTRE 30 ET 100 EN ORDRE CROISSANT**

Écris les nombres suivants dans l'ordre croissant.

50	40	10	60	70	30	80	20
----	----	----	----	----	----	----	----

--	--	--	--	--	--	--	--

57

1 2 9 0

**Fiche CE1 N4 CALCULER MENTALEMENT DES SOMMES INFÉRIEURES OU ÉGALES À 20**

Écris le résultat des calculs dictés :

essai

A

**58**

1 2 9 0

B

**59**

1 2 9 0

C

**60**

1 2 9 0

**FICHE CE1 N5 CALCULER MENTALEMENT DES DIFFÉRENCES INFÉRIEURES OU ÉGALES À 20**

Écris le résultat des calculs dictés :

essai

A

**61**

1 2 9 0

B

**62**

1 2 9 0

**Fiche CE1 N6 RESOUDRE DES PROBLEMES FAISANT INTERVENIR L'ADDITION**

Il y a deux classes de CE1 avec des élèves portant des lunettes et des élèves sans lunettes.

CE1A : 10 élèves avec lunettes et 5 élèves sans lunettes

CE1B : 8 élèves avec lunettes et 5 élèves sans lunettes

Les deux classes se retrouvent pour une rencontre sportive, les maîtresses doivent ranger toutes les paires de lunettes dans des boîtes. Il faut une boîte pour chaque paire de lunettes.

Combien doivent-elles préparer de boîtes?

*Utilise ce cadre pour réfléchir*

Écris ta réponse sur la ligne en dessous.

Il faut ..... boîtes pour ranger toutes les lunettes.

63

1 2 9 0

**Fiche CE1 N7 RESOUDRE DES PROBLEMES FAISANT INTERVENIR LA SOUSTRACTION**

Dans une classe, il y a 19 élèves. 12 élèves sont des filles.

Combien y a-t-il de garçons dans cette classe ?

*Utilise ce cadre pour réfléchir*

Écris ta réponse sur la ligne en dessous.


Dans cette classe, il y a ..... garçons.

64

1 2 9 0

Fiche CE1 Go1 TRACER UN CARRÉ A L'AIDE D'UN QUADRILLAGE ET D'UNE REGLE

Trace un carré en t'aidant du premier côté dessiné.




65  
1 2 9 0

Fiche CE1 Go2 SITUER UN OBJET PAR RAPPORT A UN AUTRE OBJET

Mets une croix sous la vignette qui correspond à la phrase que je dicte.


A



B



C



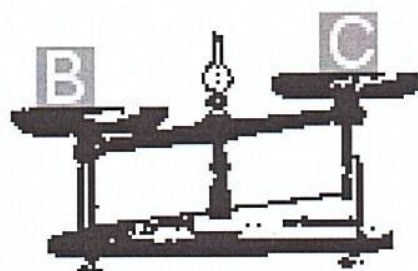

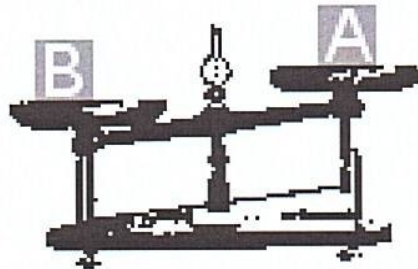
66  
1 2 9 0



Il y a 3 boîtes A, B, C.

On utilise la même balance pour comparer les poids des 3 boîtes :

- Quelle est la boîte la plus lourde ?
- Quelle est la boîte la plus légère ?



La boîte ,,.,.,.,, est la plus lourde.

67  
1 9 0










La boîte ,,.,.,.,, est la plus légère.

68  
1 9 0

**Fiche CE1 Og1 LIRE UN TABLEAU DANS UNE SITUATION CONCRETE SIMPLE**

Dans un zoo, le gardien a un tableau pour savoir ce qu'il doit distribuer aux animaux.

Aide-le à donner les aliments aux animaux. Complète les phrases situées sous le tableau.

	Éléphants 	Perroquets 	Ours 	Singes 	Lions 
<b>Bottes de foin</b> 	25				
<b>Poissons</b> 			60		
<b>Fruits</b> 		20		50	
<b>Morceaux de viande</b> 					15

Les animaux qui mangent des fruits sont .....

69

190

Le gardien doit donner 60 ..... aux ours.

70

190

